



Prefeitura Municipal de Santa Cruz do Sul
CIEE/RS – Centro de Integração Empresa Escola do Rio Grande do Sul
Processo Seletivo Simplificado de Estágio – **18 de Fevereiro de 2017**

Nome:

Curso:

Nº de Inscrição:

Assinatura do Candidato:

Informações importantes:

- Esta prova contém **40** questões objetivas e terá duração total de **3 horas**;
- Para cada questão existe somente uma alternativa correta;
- Com caneta de tinta azul ou preta, assinale na prova a alternativa que julgar correta e, após, transfira para o “Cartão Resposta”;
- Cuidado no preenchimento do cartão resposta, pois não serão substituídos cartões em caso de rasura;
- Não serão computadas as questões não assinaladas na grade e as questões que contenham mais de uma resposta, emenda ou rasuras;
- Ao final você deverá entregar a prova e o Cartão Resposta, retendo a folha “Gabarito” para posterior conferência. A prova deverá estar identificada e preenchida.
- Cartão Resposta sem assinatura e sem os dados do candidato serão considerados nulos;
- Os monitores de sala não esclarecerão dúvidas sobre a prova durante a sua realização.

BOA PROVA!



LÍNGUA PORTUGUESA

Política

A política está relacionada diretamente com a vida em sociedade, no sentido de fazer com que cada indivíduo _____ suas diferenças e conflitos sem que isso seja transformado em um caos social.

Embora se afirme que gregos e romanos tenham criado a política, com destaque para a obra “Política” de Aristóteles, não podemos negar a existência de relações de poder e autoridade em civilizações anteriores. De fato, gregos e romanos desenvolveram as características de autoridade e poder no sentido político.

De certa forma, a política surgiu para garantir a estabilidade social.

<http://mundoeducacao.bol.uol.com.br/politica/> - adaptado

1) Assinalar a alternativa que preenche a lacuna do texto CORRETAMENTE:

- a) espresse
 - b) expresse
 - c) exprece
 - d) espreçe
-

2) De acordo com o texto, marcar C para as afirmativas Certas, E para as Erradas e, após, assinalar a alternativa que apresenta a sequência CORRETA:

- () A política foi criada com o intuito de promover o caos social.
- () Já existiam relações de poder e autoridade em civilizações anteriores aos gregos e romanos.

- a) E - C.
 - b) E - E.
 - c) C - E.
 - d) C - C.
-

3) O vocábulo “garantir”, presente no texto, NÃO possui como sinônimo:

- a) Assegurar.
 - b) Aviltar.
 - c) Atestar.
 - d) Afiançar.
-

4) Assim como o sublinhado na oração “De certa forma, a política surgiu para garantir a estabilidade social.”, também é objeto direto o segmento sublinhado na alternativa:

- a) A ciência política é uma área do pensamento destinada a estudar os modelos de organização e funcionamento estatal.
- b) A ciência política é uma área do pensamento destinada a estudar os modelos de organização e funcionamento estatal.
- c) A ciência política é uma área do pensamento destinada a estudar os modelos de organização e funcionamento estatal.
- d) A ciência política é uma área do pensamento destinada a estudar os modelos de organização e funcionamento estatal.



5) Em relação à classificação das palavras abaixo quanto ao número de sílabas, numerar a 2ª coluna de acordo com a 1ª e, após, assinalar a alternativa que apresenta a sequência CORRETA:

- (1) Monossílabo.
- (2) Dissílabo.
- (3) Trissílabo.

- () Países.
- () Social.
- () Gregos.

- a) 1 - 2 - 3.
 - b) 3 - 2 - 2.
 - c) 3 - 3 - 2.
 - d) 2 - 1 - 2.
-

6) Um dos alunos da aula de português do colégio X ficou em dúvida quanto à separação em sílabas de algumas palavras que foram aprendidas na aula da semana passada. Para que esse aluno faça a divisão silábica CORRETA das palavras “linguista”, “complexo” e “professor”, ele deve separá-las de qual maneira?

- a) Lin-guis-ta / com-ple-xo / pro-fe-ssor.
 - b) Ling-uis-ta / com-plex-o / pro-fes-sor.
 - c) Li-nguis-ta / com-plex-o / pro-fe-ssor.
 - d) Lin-guis-ta / com-ple-xo / pro-fes-sor.
-

7) Analisar a sentença abaixo quanto à concordância nominal das frases:

Há menos pessoas do que no ano passado (1ª parte). Estes aparelhos custam caro! (2ª parte).

A sentença está:

- a) Totalmente correta.
 - b) Correta somente em sua 1ª parte.
 - c) Correta somente em sua 2ª parte.
 - d) Totalmente incorreta.
-

8) Analisar os itens abaixo quanto à concordância verbal:

I - Minas Gerais estão em alerta por causa do surto de febre amarela.

II - Unidos da Tijuca será a última escola de samba a se apresentar.

- a) Os itens I e II estão corretos.
 - b) Somente o item I está correto.
 - c) Somente o item II está correto.
 - d) Os itens I e II estão incorretos.
-

9) Assinalar a alternativa cujo termo sublinhado é um adjetivo:

- a) Inscrição em pedra.
 - b) Poder de voto.
 - c) Ciência política.
 - d) Forma coercitiva.
-



10) Assinalar a alternativa que apresenta um verbo no passado:

- a) “A política está relacionada...”
- b) “... a política surgiu...”
- c) “Embora se afirme...”
- d) “... não podemos negar...”

INFORMÁTICA

Atenção! Para responder às questões de Informática, a menos que seja explicitamente informado o contrário, considerar que os programas mencionados encontram-se na versão Português-BR e, em sua configuração padrão de instalação, possuem licença de uso, o mouse está configurado para destros, um clique ou duplo clique correspondem ao botão esquerdo do mouse e teclar corresponde à operação de pressionar uma tecla e, rapidamente, liberá-la, acionando-a apenas uma vez. Dessa forma, as teclas de atalho, os menus, os submenus, as barras, os ícones e os demais itens que compõem os programas abordados nesta prova encontram-se na configuração padrão, conforme exposto anteriormente.

11) A página principal, de abertura de um site da Internet, e através da qual o programa navegador, uma vez indicado o seu endereço (URL), tem acesso ao referido site, chama-se:

- a) Web.
- b) E-mail.
- c) Home page.
- d) On-line.

12) Microfones podem ser conectados ao computador para gravar sons ou para o usuário se comunicar por Internet com outros usuários. Muitos computadores possuem microfones incorporados. Considerando-se o exposto, é CORRETO afirmar que o microfone é um periférico de:

- a) Saída, apenas.
- b) Entrada, apenas.
- c) Armazenamento.
- d) Entrada e saída (misto).

13) Em relação ao software, marcar C para as afirmativas Certas, E para as Erradas e, após, assinalar a alternativa que apresenta a sequência CORRETA:

- () Em um computador, o software é classificado como a parte lógica cuja função é fornecer instruções para o hardware.
- () A planilha eletrônica é um exemplo de software.

- a) C - C.
- b) C - E.
- c) E - C.
- d) E - E.

14) Hardware é a parte física de um computador. Com base nisso, assinalar a alternativa que NÃO apresenta um exemplo de hardware:

- a) Placa-mãe.
- b) Estabilizador.
- c) Monitor.
- d) Sistema operacional.



15) Se um usuário clicar com o botão direito do mouse no botão Iniciar da barra de tarefas do Windows 7 Professional, a seguinte opção aparecerá:

- a) Abrir o Windows Explorer.
- b) Iniciar Gerenciador de Tarefas.
- c) Bloquear a barra de tarefas.
- d) Personalizar.

16) Em relação aos ícones da área de trabalho do Windows 7 Professional, analisar os itens abaixo:

I - Ícones são imagens pequenas que representam arquivos, pastas, programas e outros itens.

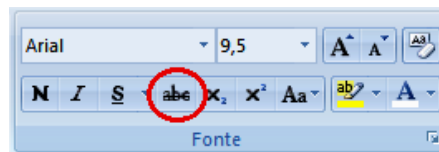
II - Ao iniciar o Windows pela primeira vez, o usuário verá pelo menos um ícone na área de trabalho: a Lixeira.

III - Um atalho é um ícone que representa um link para um item, em vez do item em si.

Estão CORRETOS:

- a) Somente os itens I e II.
- b) Somente os itens I e III.
- c) Somente os itens II e III.
- d) Todos os itens.

17) No Word 2007, o botão circulado na imagem abaixo desenha uma linha no meio do texto selecionado. Como é denominado esse botão?



- a) Itálico.
- b) Negrito.
- c) Tachado.
- d) Sublinhado.

18) Na caixa de diálogo Colunas do Word 2007, as seguintes opções de colunas estão predefinidas, EXCETO:

- a) Quatro.
- b) Duas.
- c) Uma.
- d) Direita.


19) Em relação às fórmulas no Excel 2007, analisar os itens abaixo:

I - Uma fórmula sempre começa com o símbolo # (cerquilha).

II - O operador aritmético * (asterisco) efetua a operação de multiplicação.

- a) Os itens I e II estão corretos.
- b) Somente o item I está correto.
- c) Somente o item II está correto.
- d) Os itens I e II estão incorretos.



20) No Excel 2007, o usuário pode escolher um formato alternativo de unidade monetária para a célula selecionada por meio do botão Formato de Número de Contabilização (), que se encontra na guia Início, no grupo:

- a) Estilo.
- b) Número.
- c) Células.
- d) Edição.

MATEMÁTICA

21) O faturamento total de determinada empresa no ano de 2016 foi de R\$ 680.000,00. Considerando-se que para o ano de 2017 essa empresa estima um aumento de 15% no faturamento quando comparado com o ano anterior, é CORRETO afirmar que:

- a) O total a faturar em 2017 deverá ser superior a um milhão de reais.
- b) O total a faturar em 2017 deverá ser R\$ 690.200,00.
- c) O total a faturar em 2017 não deverá ser superior a R\$ 750.000,00.
- d) O faturamento em 2017 deverá ser R\$ 102.000,00 a mais do que em 2016.

22) Sabe-se que certo estagiário responde a 3 *e-mails* a cada 8 minutos. Considerando-se a mesma proporção, a quantos *e-mails* esse estagiário deverá responder em 56 minutos?

- a) 18
- b) 21
- c) 24
- d) 29

23) Considerando-se que o quadro abaixo apresenta o preço do mesmo produto em quatro lojas diferentes, é CORRETO afirmar que a média de preço desse produto é de:

Loja	Preço
W	R\$ 28,00
X	R\$ 25,00
Y	R\$ 26,00
Z	R\$ 29,00

- a) R\$ 26,50
- b) R\$ 27,00
- c) R\$ 27,50
- d) R\$ 28,00

24) O capital de R\$ 5.000,00 deverá ser aplicado em determinada instituição financeira à taxa de juros simples de 4% ao mês durante 5 meses. Com base nessas informações, é CORRETO afirmar que essa aplicação terá um rendimento mensal de:

- a) R\$ 200,00
 - b) R\$ 300,00
 - c) R\$ 400,00
 - d) R\$ 500,00
-



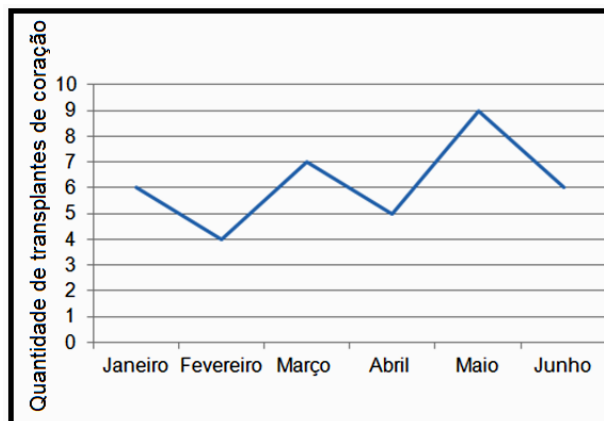
25) Supondo-se que o valor da bolsa de estágio para estudantes de Ensino Superior seja de R\$ 960,00, e que o valor da bolsa para estudantes de Ensino Médio seja $\frac{1}{3}$ a menos do que o valor da bolsa de estágio para estudantes de Ensino Superior, assinalar a alternativa que apresenta o valor da bolsa de estágio para estudantes de Ensino Médio:

- a) R\$ 760,00
- b) R\$ 640,00
- c) R\$ 580,00
- d) R\$ 320,00

26) Assinalar a alternativa INCORRETA:

- a) 2km são equivalentes a 2.000m.
- b) 2m^2 são equivalentes a 20.000cm^2 .
- c) 2kg são equivalentes a 2.000g.
- d) 2mL são equivalentes a 0,02L.

27) Considerando-se que o gráfico abaixo apresenta a quantidade de transplantes de coração realizados em certo hospital no primeiro semestre de 2016, assinalar a alternativa CORRETA:



- a) Abril foi o mês em que menos foram realizados transplantes de coração.
- b) Nos meses de janeiro e março foi realizada a mesma quantidade de transplantes de coração.
- c) No mês de junho foi realizada quantidade maior de transplantes de coração do que no mês de janeiro.
- d) A maior quantidade de transplantes de coração realizada foi no mês de maio e a menor no mês de fevereiro.

28) Sabendo-se que em um estojo há 16 lápis e 4 borrachas, a razão entre a quantidade de borrachas e a quantidade de lápis é igual a:

- a) 4
- b) $\frac{1}{2}$
- c) $\frac{1}{4}$
- d) $\frac{2}{3}$

29) Dada a equação $3x + 11 = -2x + 31$, em que x representa a quantidade de estagiários inscritos em certo processo seletivo, quantos estagiários se inscreveram nesse processo?

- a) 4
- b) 5
- c) 6
- d) 7



30) Sabendo-se que em 2017 o feriado de *Corpus Christi* será dia 15 junho, quinta-feira, o dia do estudante comemorado no dia 11 de agosto, neste mesmo ano, deverá ser em um(a):

- a) Domingo.
- b) Sábado.
- c) Sexta-feira.
- d) Quinta-feira.

CONHECIMENTOS GERAIS

31) “Febre amarela avança com mortes no interior de MG e cria alerta nacional.”

<http://www1.folha.uol.com.br/cotidiano/2017...> - adaptado.

A febre amarela é transmitida:

- a) Pela mordida de roedores infectados.
- b) Pela picada dos mosquitos transmissores infectados.
- c) Por primatas letárgicos.
- d) Por aves de rapina infectadas.

32) “No primeiro dia do ano de 2017, uma rebelião no Complexo Penitenciário Anísio Jobim (Compaj), na capital do Amazonas, foi encerrada com o assassinato de 56 presos, a maioria por conta de uma guerra de facções que vem sendo travada, por enquanto, dentro dos presídios.”

<http://www.cartacapital.com.br/sociedade...> - adaptado.

Com base na notícia acima, é CORRETO afirmar que o Complexo Penitenciário Anísio Jobim, palco de uma das mais sangrentas rebeliões de presos no início de 2017, está localizado em:

- a) Curitiba.
- b) Porto Velho.
- c) Rio Branco.
- d) Manaus.

33) Em 2016, por seus esforços de pacificação em seu país, que vive uma guerra civil que já dura mais de 50 anos, Juan Manuel Santos, Presidente da Colômbia, recebeu o Prêmio Nobel:

- a) De Literatura.
- b) De Medicina.
- c) Da Paz.
- d) De Economia.

34) “A Venezuela foi suspensa do Mercosul por não ter cumprido acordos e tratados do protocolo de adesão ao bloco.”

<http://g1.globo.com/mundo/noticia...> - adaptado.

Assinalar a alternativa que apresenta os Estados Partes do Mercosul:

- a) Brasil, Argentina, Uruguai e Paraguai.
 - b) Argentina, Cuba, Paraguai e Brasil.
 - c) Costa Rica, Uruguai, Brasil e Cuba.
 - d) Argentina, Paraguai, Uruguai e Cuba.
-



35) “Com aumento de queixas, Uber enfrenta crise de reputação no país.”

<http://exame.abril.com...> - adaptado.

O que é “Uber”?

- a) É um sistema de cartão de créditos que não usa a cobrança de taxas bancárias.
- b) É uma empresa multinacional norte-americana prestadora de serviços eletrônicos na área do transporte privado urbano.
- c) É uma tecnologia que permite o acesso de banda larga em aparelhos de celular, também chamado de 4G.
- d) Planos de telefonia móvel por satélite.

36) “FMI reduz projeção de crescimento do Brasil a 0,2% em 2017. Cenário de praticamente estagnação neste ano ocorrerá, segundo a entidade, devido ao desempenho pior que o esperado em 2016.”

<http://exame.abril.com.br/economia...> - adaptado.

Em relação ao FMI, marcar C para as afirmativas Certas, E para as Erradas e, após, assinalar a alternativa que apresenta a sequência CORRETA:

- () É um fundo monetário internacional.
 - () É uma organização monetária que atua somente no Brasil.
- a) C - C.
 - b) E - C.
 - c) C - E.
 - d) E - E.

37) Assinalar a alternativa que preenche a lacuna da notícia abaixo CORRETAMENTE:

“Em segunda consulta popular sobre o tema, _____ decide por saída da União Europeia após 43 anos.”

<http://www1.folha.uol.com.br/mundo/2017...> - adaptado.

- a) França
- b) Espanha
- c) Estados Unidos
- d) Reino Unido

38) “O Presidente eleito dos Estados Unidos, Donald Trump, considera que a chanceler Angela Merkel cometeu um ‘erro catastrófico’ com sua política de acolhida de refugiados. O republicano já havia criticado Merkel durante a campanha por permitir a entrada de refugiados ao afirmar que isso coloca em risco a segurança europeia.”

<http://brasil.elpais.com/brasil/2017...> - adaptado.

Angela Merkel é a chanceler:

- a) Alemã.
 - b) Francesa.
 - c) Russa.
 - d) Italiana.
-



39) “Pará, Rondônia e Mato Grosso foram os Estados que mais desmataram. A maior parte do problema se concentrou em terras privadas e assentamentos. O desmatamento na Amazônia cresceu quase 30% no ano passado e é o pior resultado desde 2008. Os dados são do Instituto de Pesquisa Ambiental da Amazônia, que monitora a devastação da floresta.”

<http://g1.globo.com/jornal-hoje/2017...> - adaptado.

A região geoeconômica da Amazônia situa-se em qual região do Brasil?

- a) Nordeste.
- b) Sudeste.
- c) Norte.
- d) Sul.

40) A violência contra as mulheres vem aumentando cada vez mais, esse assunto é visto diariamente nos noticiários e as notícias são cada vez mais preocupantes. Muitas vezes o agressor é seu próprio marido e devido a isso o crime acaba não sendo denunciado por medo de algo que ele possa fazer posteriormente à mulher. No Brasil, existe uma lei para coibir e prevenir a violência doméstica e familiar contra a mulher, que ficou popularmente conhecida como Lei:

- a) Maria do Rosário.
- b) Do Outubro Rosa.
- c) Do Feminismo.
- d) Maria da Penha.